



Сурагчийн нэр:

Эхэлсэн: он сар өдөр



Биетийн эзлэхүүнийг хэмжихдээ (куб) шоо хэрэглэнэ.
Эзлэхүүнийг хэмжих нэгж нь 1 см.куб, 1 дм.куб, 1 м.куб, 1 км.куб




1 Биетийн эзлэхүүний хэмжээг бичээрэй.



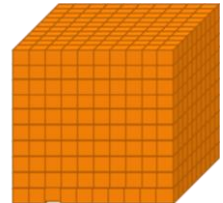
1 (шоо)



_____ (шоо)

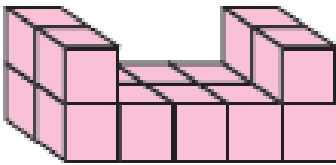


_____ (шоо)

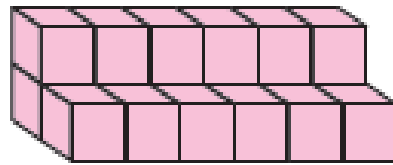


_____ (шоо)

2 Биетийн эзлэхүүнийг хялбар аргаар тооцоолоорой.



_____ (шоо)



_____ (шоо)

3 Биетийн эзлэхүүний хэмжээг бичээрэй.

а.




1 (см.куб)

б.

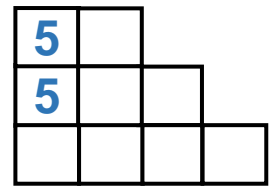


_____ (см.куб)

в.

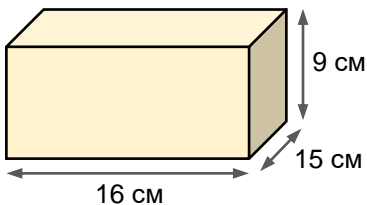


_____ (см.куб)


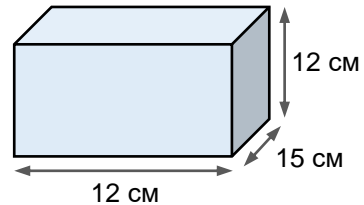


4 Биетийн эзлэхүүний хэмжээг бичээрэй.

а.



б.



Дууссан:сарөдөр



Даалгавар	1	2	3	4
Өөрийн үнэлгээ	😊	😊	😊	😊