

Сурагчийн нэр:

Эхэлсэн: он сар өдөр



Тоог зураасаар дүрсэлье.

Тоо	1	2	3	4	5	6	7	8	9	10
Зураас										

1 Навч бүр хэд байгааг хүснэгтэд бүртгээрэй.

Навч										
Зураас										
Тоо	8									

2 Амьтан тус бүр хэд байна вэ? Хүснэгтэд бүртгээрэй.

Амьтан	Зураас	Тоо				
Анааш		4				
Сармагчин						
Шувуу						
Нохой						

3 Амьтдын тоог хүснэгтэд бүртгэжээ. Амьтан бүр хэд байсан бэ?

					8
					3

4 Сурагчдын тоог дугуй дүрсээр илэрхийлж зураарай.

Анги	Зураас	Тоо
1 дүгээр анги		10
2 дугаар анги		5
3 дугаар анги		9
4 дүгээр анги		7

Дууссан:сарөдөр

Даалгавар	1	2	3	4
Өөрийн үнэлгээ				




Сурагчийн нэр:

Эхэлсэн: он сар өдөр




Амьтдын тоог дүрслээрэй.

3	5	4	4



1 Хичээлийн хэрэгслийн тоотой тэнцүү тооны нүд будаарай.

Хичээлийн хэрэгсэл	Ширхэг
	3
	5
	4
	2



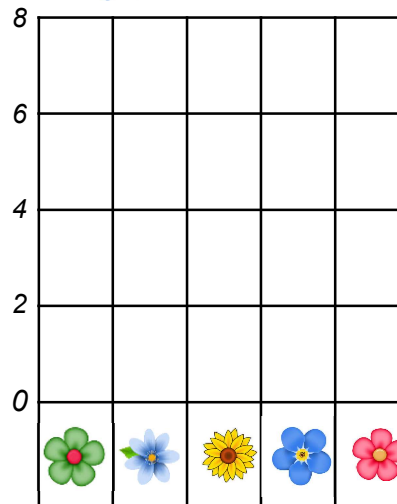
Хамгийн олон хичээлийн хэрэгслийг нэрлэж бичээрэй.

Хамгийн цөөн хичээлийн хэрэгсийг бичээрэй.

2 Цэцгийн тоог хүснэгтэд бүртгээд, дүрслээрэй.



Цэцэг	Зураас	Ширхэг
		4

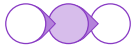


Тэнцүү тоотой ямар цэцгүүд байна вэ?

Нийт хэдэн цэцэг байна вэ?

Дууссан:сарөдөр

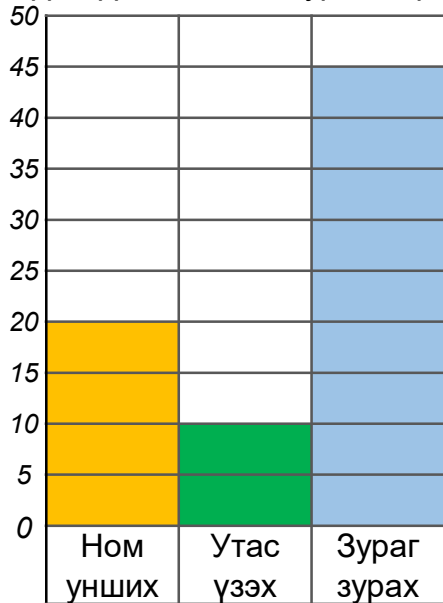
	Даалгавар	1	2
	Өөрийн үнэлгээ		



Сурагчийн нэр:

Эхэлсэн: он сар өдөр

1 Хүүхдүүдийн хийх дуртай зүйлсийг ажиглаад, асуултад хариулаарай.



1. Хэдэн хүүхэд утас үзэх дуртай вэ?

2. Чөлөөт цагаараа юу хийх хамгийн дуртай байна вэ?

3. Ногоон өнгө яагаад хамгийн намхан нь байна вэ?

4. Судалгаанд нийт хэдэн хүүхэд оролцсон байна вэ?

2 Сурагчдын тарьсан модны тоог хүснэгтээр харуулав.

Марал	● ● ● ●
Очир	● ● ● ● ● ● ●
Ганаа	● ● ● ●
Үжин	● ●

● - 10

а. Хүүхэд бүрийн тарьсан модны тоог олоорой.

б. Хамгийн олон, хамгийн цөөн мод тарьсан хүүхдийн модны зөрөөг олоорой.

в. Тэнцүү тооны мод тарьсан хүүхдүүдийн нийт тоог хэрхэн олж болох вэ?

г. Хүүхдүүд нийт хэдэн мод тарьсан бэ?

Дууссан:сарөдөр



Даалгавар	1	2
Өөрийн үнэлгээ	☹	☹