








Сурагчийн нэр:

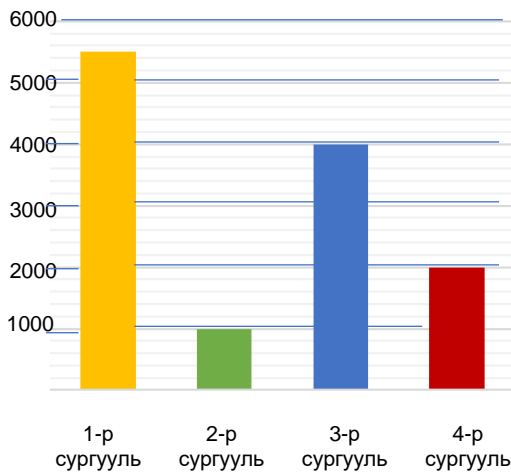
Эхэлсэн: он сар өдөр

1 Сурагчдаас сонирхдог спортыг асууж, хүснэгтэд бүртгэв.  = 10

- а. Ямар спортыг хамгийн олон сурагч сонирхдог вэ? _____
- б. Ямар спортод хамгийн цөөн сурагч дуртай вэ? _____
- в. Нийт хэдэн сурагч асуулгад оролцсон бэ? _____

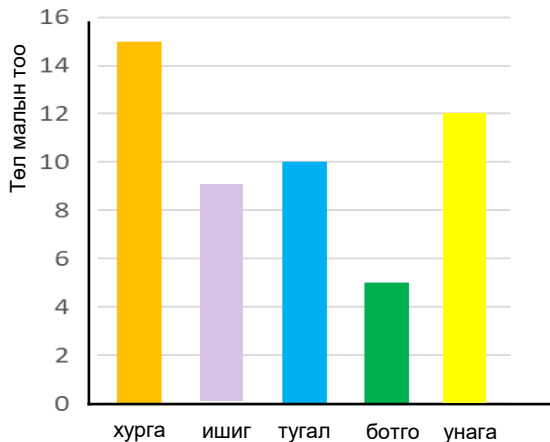
Дуртай спорт	дүрслэл	бүртгэл
Сагсан бөмбөг		
Хөл бөмбөг		
Гар бөмбөг		
Агаарын бөмбөг		

2 Багалан диаграммыг ажиглаж, асуултад хариулаарай.








- а. Хэддүгээр сургууль хамгийн олон сурагчтай вэ? _____
- б. 3,4-р сургууль хэдэн сурагчтай вэ? _____
- в. Нийт 4 сургуулийн сурагчдын тоо хэд вэ? _____
- г. Сурагчдын тоо нь 1000-ын зөрөөтэй сургуулиуд аль вэ? _____

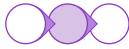
3 Хот айлын төл малын тоог багалан диаграммаар дүрсэлсэн байгааг ажиглаж, асуулт зохион бичээд, хариулаарай.



- а. _____ ?
- б. _____ ?
- в. _____ ?
- г. _____ ?

Дууссан:сарөдөр

 	Даалгавар	1	2	3
	Өөрийн үнэлгээ			

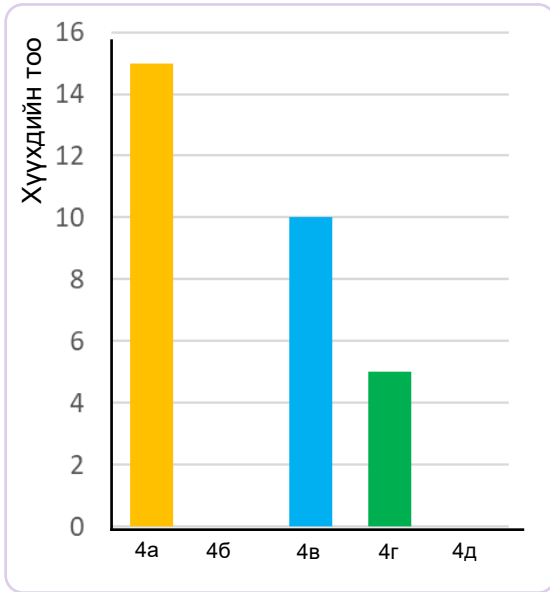


Сурагчийн нэр:

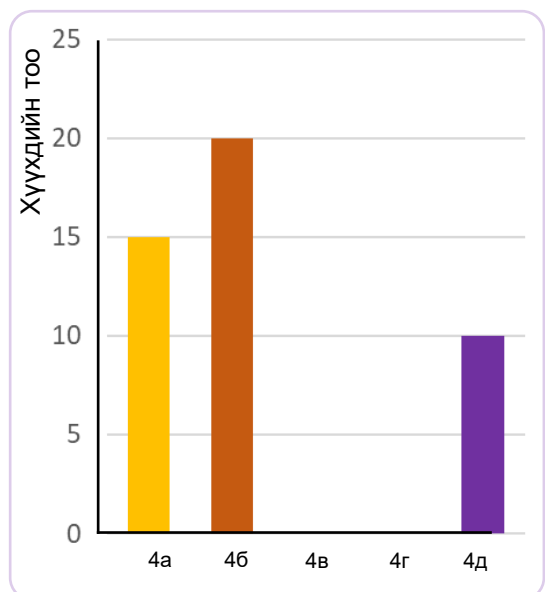
Эхэлсэн: он сар өдөр

- 1 Хүү охин хоёр сургуулийнхаа 4р ангийн сурагчдаас амьтан тэжээдэг сурагчдын судалгааг авч, баганан диаграммаар дүрслэн үзүүлэв. Хүү охин хоёрын диаграммын хуваарийг ажиглаж харьцуулаад, гүйцээж зураарай.

Хүүгийн дүрслэл

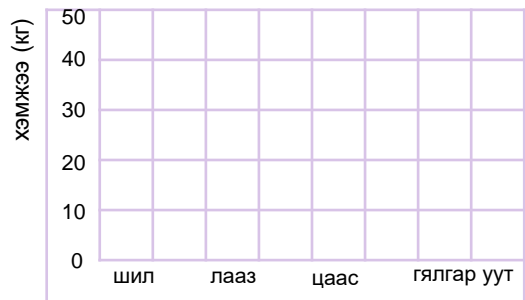


Охины дүрслэл



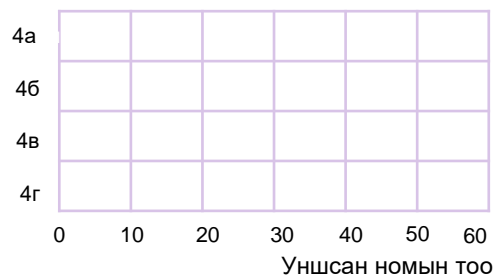
- 2 Нэгэн байрныхан хог хаягдлаа ангилж, дахивар хаягдлын хэмжээг хүснэгтэд бүртгэв. Дээрх өгөгдлийг баганан диаграммаар дүрслээрэй.

Хаягдал	Хэмжээ (кг)
шил	45
лааз	20
цаас	35
гялгар уут	10



- 3 Нэг сургуулийн 4-р ангийн сурагчид уншсан номынхоо тоог хүснэгтэд бүртгэв. Уншсан номыг тоог диаграммаар дүрслээрэй.

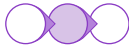
4-р ангиуд	уншсан ном
4а	53
4б	35
4в	50
4г	40



Дууссан:сарөдөр



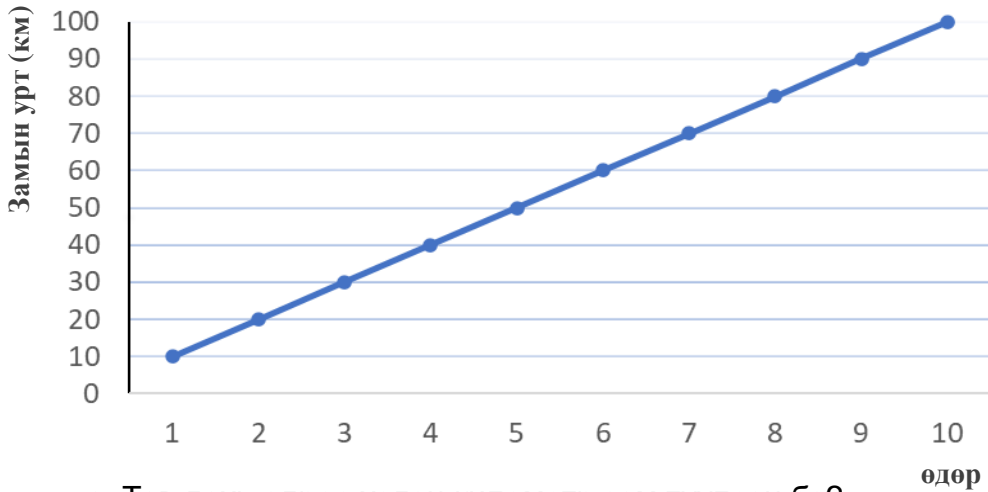
Даалгавар	1	2	3
Өөрийн үнэлгээ	😊	😐	😞



Сурагчийн нэр:

Эхэлсэн: он сар өдөр

1 . Аялагчийн 10 өдрийн турш туулсан замыг графикаар дүрслэв.



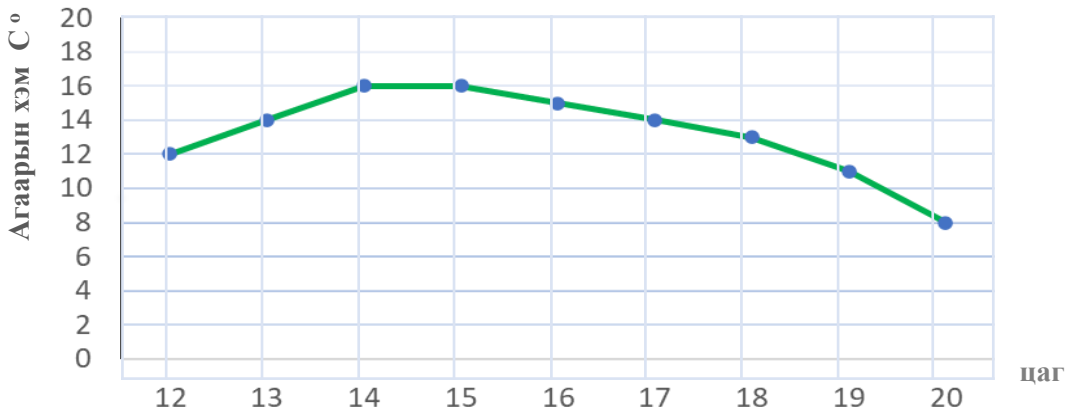
а. Тав дахь өдрөө хэдэн километр зам туулсан бэ?

б. Хэдэн өдөрт 30км замыг туулсан бэ?

в. Өдөр бүр хэдэн километр зам туулж байна вэ?

г. Хэрэв 11 өдөр аялсан бол ямар зам туулах байсан бэ?

2 Цаг агаарын мэдээг графикаар үзүүлснийг хүснэгтэд нөхөж бичээрэй.



Цаг	12	13	14	15	16	17	18	19	20
Агаарын хэм									

Дууссан:сарөдөр



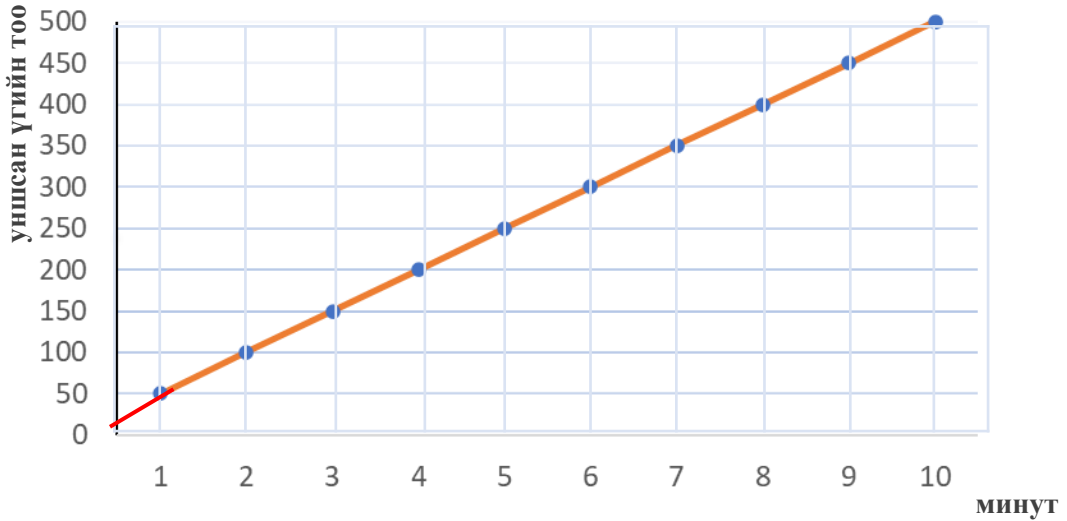
Даалгавар	1	2
Өөрийн үнэлгээ		



Сурагчийн нэр:

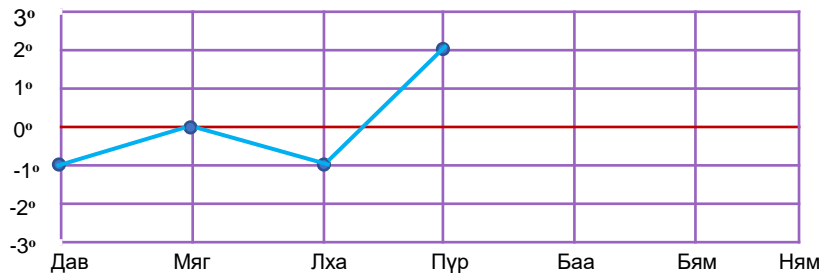
Эхэлсэн: он сар өдөр

- 1 Сурагчийн 10 минутын турш уншсан үгийн тоог графикаар үзүүлэв. Графикийг ажиглаж, дүгнэлт гарган бичээрэй.



- 2 Даваагаас ням гарагийн агаарын хэмийг өдөр бүрийн 12 цагт тэмдэглэв. Өгөгдлийн графикийг гүйцээж, асуулт зохион бичээрэй.

гараг	даваа	мягмар	лхагва	пүрэв	баасан	бямба	ням
агаарын хэм	-1°	0°	-2°	2°	1°	3°	0°



- а. _____
- б. _____
- в. _____

Дууссан:сарөдөр



Даалгавар	1	2
Өөрийн үнэлгээ	😊	😊